

17. Który z wymienionych organizmów jest organizmem wszystkożernym:

- a) orzeł bielik
- b) dzik
- c) karp
- d) korniki

18. Do roślin uprawianych wyłącznie w ogrodach warzywnych należą:

- a) śliwy, jabłonie, grusze
- b) ogórek, pomidor, jabłoń
- c) dynia, ogórek, pomidor
- d) kalarepa, sałata, grusza

19. Które z przedstawionych czynników naturalnych mają wpływ na rolnictwo? Zaznacz błędną odpowiedź.

- a) klimat
- b) gleby
- c) bogactwa naturalne
- d) ukształtowanie terenu





20. To zbiorowisko roślinne jest utworzone przez drzewa liściaste i wymaga żyznej gleby. Rosną w nim głównie dęby, graby, klony i lipy. Co to za zbiorowisko?

- a) grąd
- b) ols
- c) buczyna geologicznej
- d) bór sosnowy

21. Zaznacz prawidłową kolejność poszczególnych odcinków przewodu pokarmowego:

- a) żołądek, jama ustna, odbytnica, jelita, przełyk
- b) jama ustna, żołądek, przełyk, jelita, odbytnica
- c) jama ustna, przełyk, żołądek, jelita, odbytnica
- d) jama ustna, przełyk, jelita, żołądek, odbytnica

22. Temperaturę ciała zdrowego człowieka przedstawia termometr:

- a)  36,6°C
- b)  38°C
- c)  30°C
- d)  35,6°C

23. Dopasuj pojęcie do nazwy elementu budowy człowieka. Płuca to:

- a) organ
- b) układ
- c) tkanka
- d) komórka

24. Która czynność przedstawia korzystne dla zdrowia zachowanie człowieka.

- a) *chłopiec, który objada się czekoladą*
- b) *chłopiec przed telewizorem*
- c) *chłopiec jadący na rowerze*
- d) *chłopiec, który je fastfoody*

25. Rolą układu szkieletowego jest:

- a) koordynowanie pracą innych narządów
- b) pełnienie funkcji rusztowania i ochrony narządów wewnętrznych
- c) trawienie pokarmów
- d) rozprowadzanie po organizmie substancji pokarmowych i gazów

26. Parki narodowe zakłada się aby:

- a) chronić ludzi przed groźnymi zwierzętami
- b) chronić miejsca o wyjątkowych walorach turystycznych
- c) chronić ginące gatunki roślin i zwierząt
- d) ochronić miejsce zabaw i wypoczynku dla dzieci

27. Wskaż prawidłową odpowiedź:
Na mapie Polski zaznaczono:

- a) Woliński Park Narodowy i Park Narodowy Ujście Warty
- b) Woliński i Słowiński Park Narodowy
- c) Park Narodowy Bory Tucholskie i Wigierski Park Narodowy
- d) Świętokrzyski i Roztoczański Park Narodowy



28. Wydra jest symbolem:

- a) Kampinoskiego Parku Narodowego
- b) Tatrzańskiego Parku Narodowego
- c) Wigierskiego Parku Narodowego
- d) Bieszczadzkiego Parku Narodowego

29. Które określenie pasuje do Świętokrzyskiego Parku Narodowego:

- a) spływ Dunajcem
- b) dęby Lech, Czech i Prus
- c) ruchome wydmy
- d) Łysogóry

30. Spośród podanych ssaków wskaż tego który nie jest objęty ochroną gatunkową:

- a) ryjówka ziemna
- b) nornik zwyczajny
- c) szczur wędrowny
- d) zając bielak